



2DO GRADO

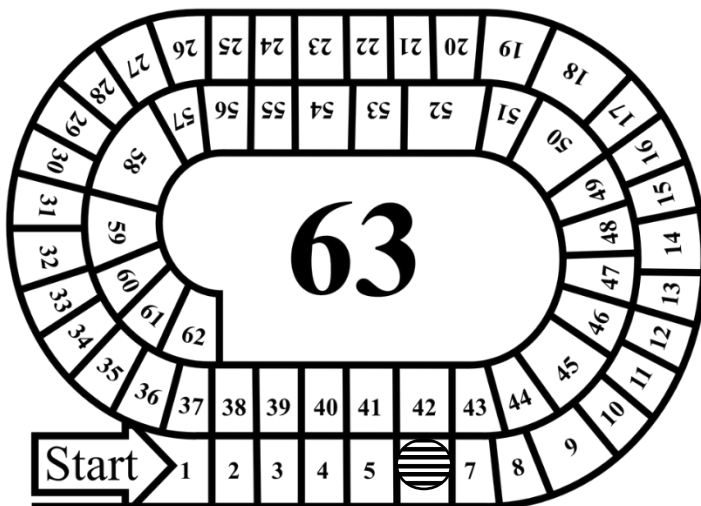
PRIMARIA



ÁREA MATEMÁTICA PROPUESTA DE ACTIVIDADES PARA SEGUNDO GRADO


SITUACIÓN 1:



JEREMÍAS, MICAELA, MANUEL Y ORIANA JUEGAN CON UNA PISTA NUMERADA Y UN DADO. EL OBJETIVO ES LLEGAR AL ÚLTIMO NÚMERO DE LA PISTA. POR TURNOS TIRAN EL DADO Y AANZAN TANTOS CASILLEROS COMO PUNTOS INDICA EL DADO.



A) SI JEREMÍAS TIENE ESTA FICHA  Y SACA  ¿EN QUÉ NÚMERO QUEDA?.....

B) MANUEL ESTABA EN EL CASILLERO 33 Y SACÓ  DIBUJA UNA FICHA VERDE EN EL CASILLERO QUE QUEDÓ.

C) MICAELA ESTABA EN EL CASILLERO  Y SACÓ 4. ¿A QUÉ CASILLERO LLEGA?

D) ORIANA ESTABA EN EL CASILLERO  TIRÓ EL DADO Y AHORA ESTÁ EN  ¿QUÉ NÚMERO SACÓ EN EL DADO?

E) ¿QUÉ TIENE QUE SACAR MANUEL PARA ALCANZAR A MICAELA?

F) EN DOS TIROS ORIANA LLEGÓ AL  ¿QUÉ NÚMEROS LE SALIERON EN ESOS TIROS?

G) COMPLETA CON LOS NÚMEROS QUE FALTAN.

$$36 + \square = 40$$

$$\square + 5 = 62$$

$$52 + 6 = \square$$

SITUACIÓN 2:

A) ADIVINA DE QUÉ NÚMERO SE TRATA.

ESTÁ EN LA FILA DE LOS
TREINTA Y TERMINA EN DOS.
.....

TIENE SEIS DIECES Y CUATRO
UNOS.
.....

ES IGUAL A VEINTE MÁS
OCHO.
.....

B) PINTA EN EL CUADRO LOS NÚMEROS QUE ADIVINASTE.

0	1	2	3	4	5	6	7	8	9
10	11	12	13	14	15	16	17	18	19
20	21	22	23	24	25	26	27	28	29
30	31	32	33	34	35	36	37	38	39
40	41	42	43	44	45	46	47	48	49
50	51	52	53	54	55	56	57	58	59
60	61	62	63	64	65	66	67	68	69
70	71	72	73	74	75	76	77	78	79
80	81	82	83	84	85	86	87	88	89
90	91	92	93	94	95	96	97	98	99

C) PINTA EN EL CUADRO LOS RESULTADOS DE ESTAS SUMAS

$$20 + 7$$

$$50 + 1$$

$$90 + 3$$

$$70 + 7$$

$$40 + 5$$

D) ¿CUÁNTO HAY QUE SUMARLE A 45 PARA OBTENER 50?

E) ESCRIBE TRES NÚMEROS MAYORES A 54

F) ESCRIBE UN NÚMERO ENTRE 32 Y 39

SITUACIÓN 3:

A) ESCRIBE CUÁNTO DINERO HAY EN CADA GRUPO.



- B) ¿EN QUÉ GRUPO HAY MÁS DINERO?
- C) ¿ES CIERTO QUE SI JUNTAMOS LOS DOS GRUPOS TENEMOS MÁS DE 100 PESOS?
¿FALTA? ¿SOBRA?..... ¿CUÁNTO?
- D) DIBUJA LOS BILLETES DE 10 PESOS Y LAS MONEDAS DE 1 PESO QUE NECESITO PARA TENER 54 PESOS.



SITUACIÓN 4:

A) PINTA LOS CÁLCULOS QUE TIENEN RESULTADO JUSTO 100

70 + 30

65 + 35

80 + 10

40 + 70

50 + 50

B) PINTA LOS QUE SE PUEDEN HACER FACIL CON LA MENTE

70 + 20

80 + 20

68 + 29

60 + 60

17 + 48

C) ESCRIBE DOS CÁLCULOS QUE SUMEN 50



SITUACIÓN 5:

HUGO ES EL VERDULERO DEL

BARRIO DE LAUTARO.



OFERTAS DEL DÍA	
PAPAS	\$20 EL KG
ZANAHORIAS.....	\$ 25 EL KG
REMOLACHA	\$ 15 EL ATADO
ZAPALLO.....	\$ 30 CADA UNO

Disponible en:

<https://lh3.googleusercontent.com/proxy/aXDuchd0jOzEtoaNkxVfJpZudbZS65bWmy3Yc1pFR-aXG25BLxl7QMZX5sBmKcPvY5cAeKaagB6ZGA5mFyAEWePUUcbMBjIC8Bge76lpsJTo-dErke77zvBbsL-FgbZ0tddxEXF3n5AgoE>

- A) LAUTARO QUIERE COMPRAR DOS KILOS DE PAPAS. ¿CUÁNTOS DE ESTOS BILLETES DEBE USAR PARA PAGAR?



- B) MARISA QUIERE COMPRAR SU TRAJO?.....

¿LE ALCANZA EL DINERO QUE



- C) LAURA QUIERE COMPRAR UN ATADO DE ZANAHORIAS Y UN ATADO DE REMOLACHA. ¿CUÁNTO DINERO NECESITA?.....

- D) SI LAURA PAGA CON \$50, ¿CUÁNTO VUELTO LE DA HUGO?

BIBLIOGRAFÍA

- Broitman, C, Itzcovich, H y otros. (2016) "Los matemáticos de 2". Ed. Santillana. Buenos Aires.
- Carrasco, D. (2018) "Pasito a pasito 2". Ed. Aique. Buenos Aires.
- Díaz, Adriana. (2009) "Aventura Matemática 2". Ed. Aique. Buenos Aires.
- Zapata, G, Romero, V, Navarro, M. (2016) "Mendoza hace Matemática 2" DGE. Mendoza.

